

الجمع بخط الأعداد والتجزئة

إعداد وتنسيق:
فاطمة عبد الله درويش الشحية

ما هو السلوك الرقمي الإيجابي؟

عدم نشر كل ما يخص التعليم في المنصات والواجبات والمعلومات الشخصية

الالتزام بتوجيهات المعلمة

قواعد الحصة المتزامنة

أجلس في مكان هادئ

الالتزام بالحضور وتسليم الواجبات حسب الوقت المحدد

عدم إرسال ملصقات تعبيرية أو الضحك على الزملاء

ألتزم بوقت الحصة

أشارك مع المعلم الأنشطة

الكتابة باللغة العربية السليمة

استخدام المنصات التعليمية المعتمدة في وزارة التربية والتعليم

أستأذن عند الإجابة

أستأذن عند الذهاب الى دورة المياه

الهدف التعليمي

* يجمع ثلاثة أو أربعة أعداد ، ويكتب الأزواج العددية ل ١٠ أو ٢٠.
* يجمع عددين مكونين من رقمين ، باستخدام الإستراتيجية المناسبة.

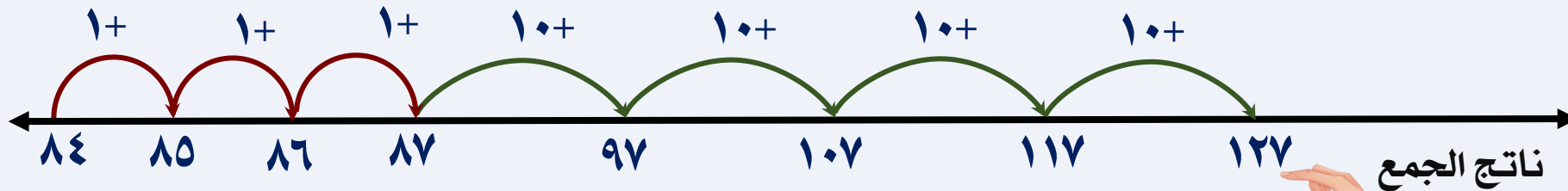
أنا أستطيع

* أستطيع أن أجمع عدة أعداد عن طريق استخراج الأزواج التي يبلغ مجموعها ١٠ أو ٢٠.
* أستطيع جمع أزواج من أعداد من رقمين باستخدام الطريقة المناسبة

التعلم القبلي

<https://www.liveworksheets.com/ic1478010pc>

اكتشف العدد الذي تم جمعه إلى العدد ٨٤



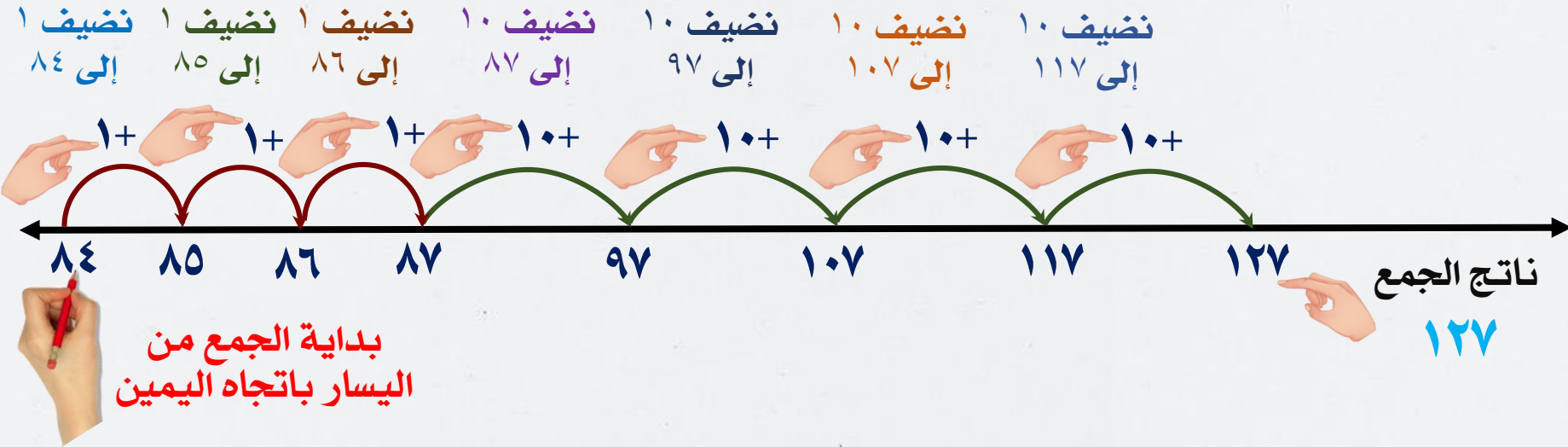
بداية الجمع من
اليسار باتجاه اليمين

خطوات الجمع بخط الأعداد من [الأحاد والعشرات]

$$127 = 43 + 84$$

الجمع خطوة خطوة

أجمع الأحاد مفرداً في خطوات متعددة بحسب الرقم المعطى ثم العشرات في خطوات بحسب الرقم المعطى



اختصار الجمع

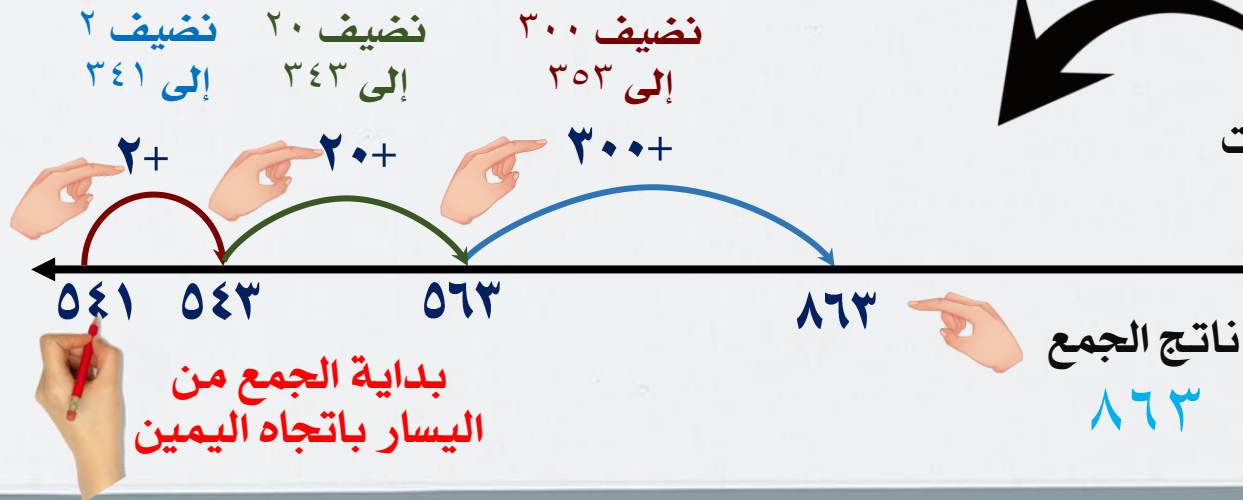
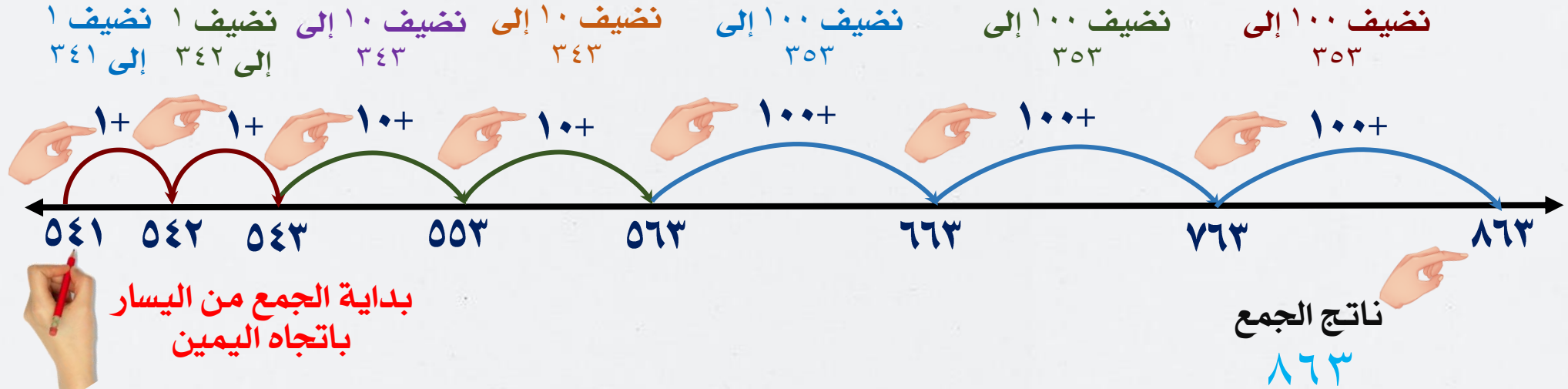
أجمع الأحاد جميعاً في خطوة واحدة
ثم العشرات جميعاً في خطوة واحدة

خطوات الجمع بخط الأعداد من [الأحاد والعشرات و المئات]

$$863 = 322 + 541$$

الجمع خطوة خطوة

أجمع الأحاد مفرداً في خطوات متعددة بحسب الرقم المعطى ثم العشرات في خطوات بحسب الرقم المعطى ثم المئات في خطوات بحسب الرقم المعطى



اختصار الجمع

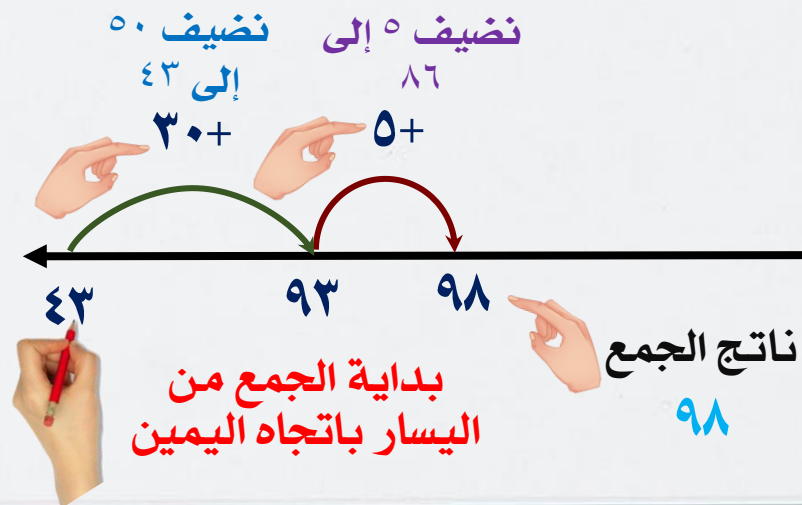
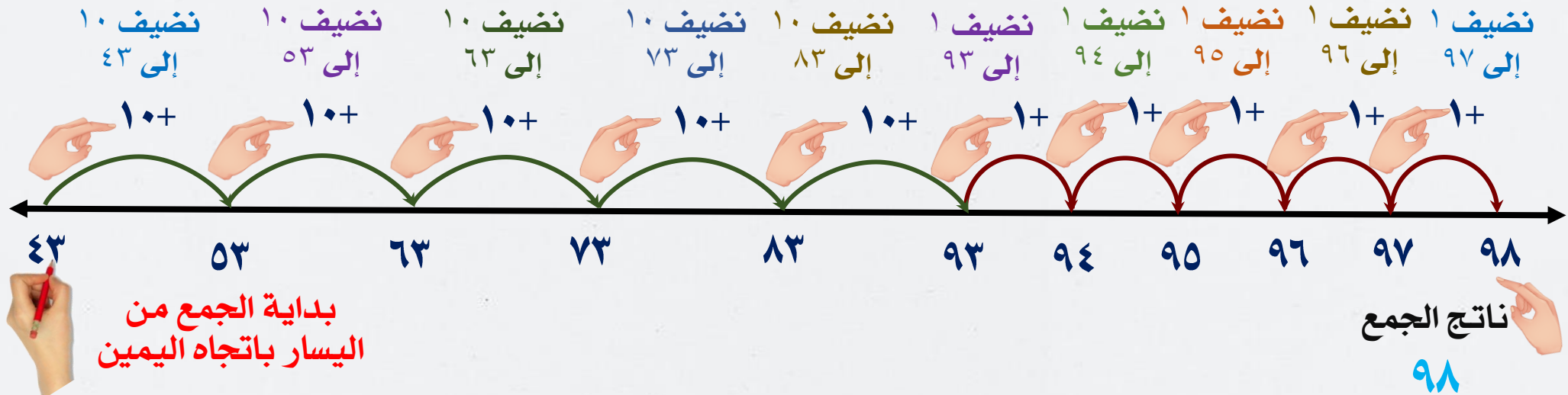
أجمع الأحاد جميعاً في خطوة واحدة ثم العشرات جميعاً في خطوة واحدة ثم المئات في خطوة

خطوات الجمع بخط الأعداد من [العشرات والآحاد]

$$98 = 55 + 43$$

الجمع خطوة خطوة

أجمع العشرات مفرداً في خطوات متعددة بحسب الرقم المعطى ثم الآحاد في خطوات بحسب الرقم المعطى



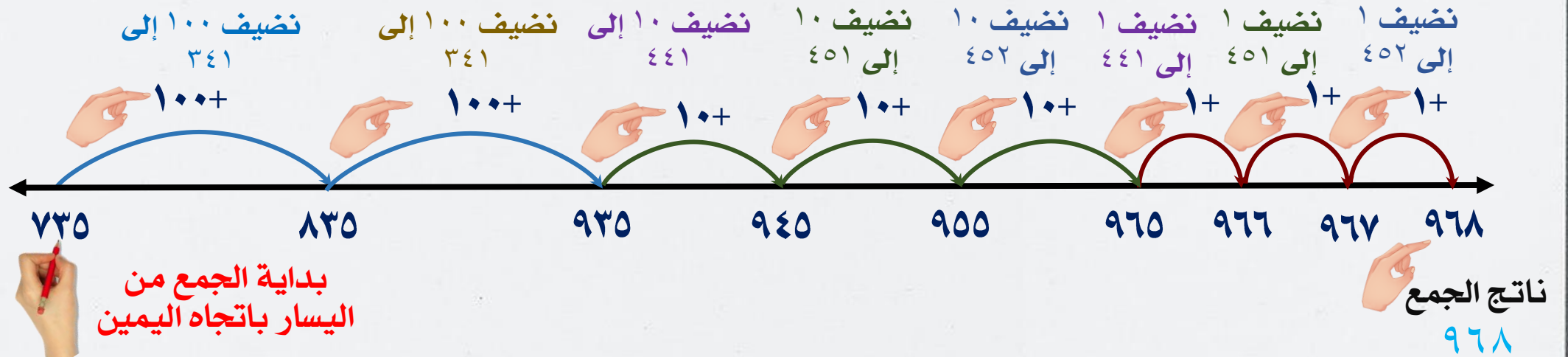
اختصار الجمع
أجمع العشرات جميعاً في خطوة واحدة
ثم الآحاد جميعاً في خطوة واحدة

خطوات الجمع بخط الأعداد من [المئات والعشرات والآحاد]

$$968 = 233 + 735$$

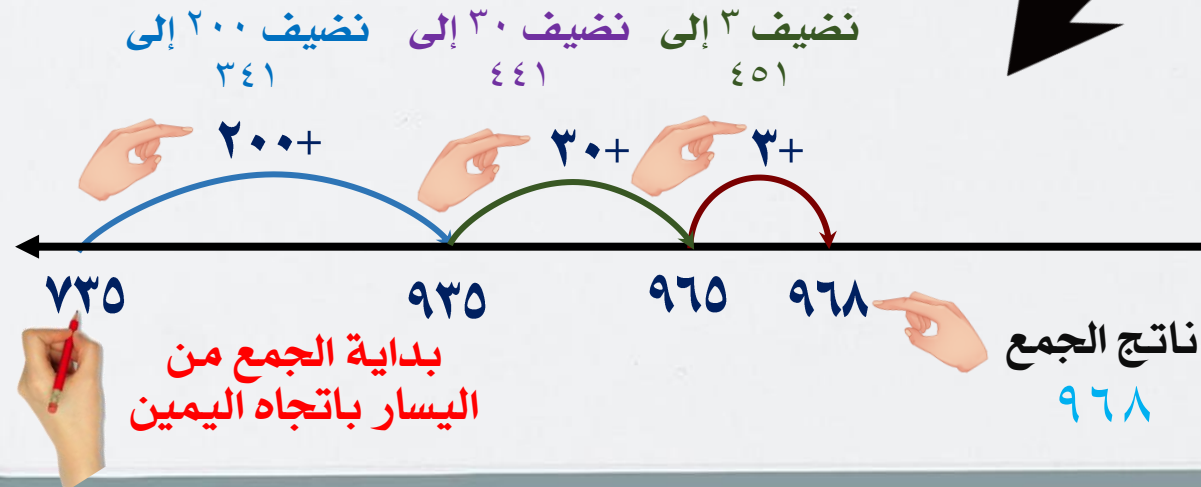
الجمع خطوة خطوة

أجمع المئات مفرداً في خطوات متعددة بحسب الرقم المعطى ثم العشرات في خطوات بحسب الرقم المعطى ثم الآحاد في خطوات بحسب الرقم المعطى



اختصار الجمع

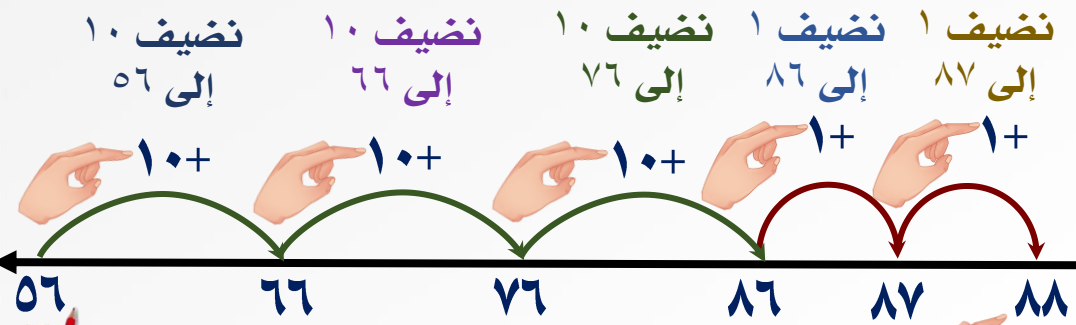
أجمع المئات جميعاً في خطوة واحدة ثم العشرات جميعاً في خطوة واحدة ثم الآحاد جميعاً في خطوة



الجمع بخط الأعداد

خطوات الجمع بخط الأعداد من [العشرات والآحاد]

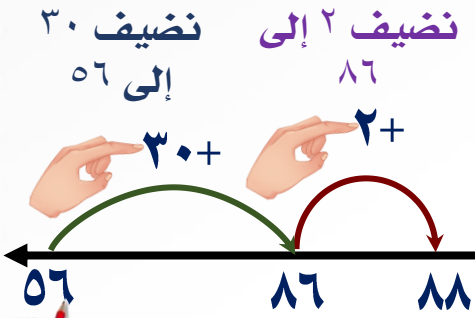
$$88 = 32 + 56$$



بداية الجمع من اليسار باتجاه اليمين

نتاج الجمع 88

اختصار الجمع
أجمع العشرات جميعاً في خطوة واحدة
ثم الآحاد جميعاً في خطوة واحدة

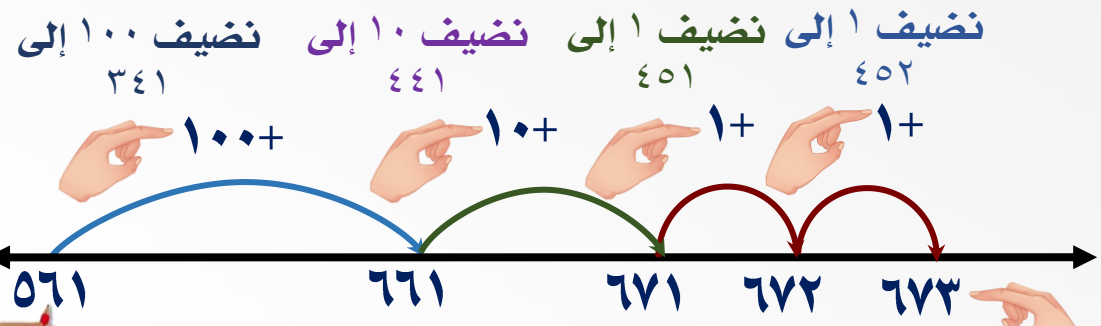


بداية الجمع من اليسار باتجاه اليمين

نتاج الجمع 88

خطوات الجمع بخط الأعداد من [المئات والعشرات والآحاد]

$$673 = 112 + 561$$

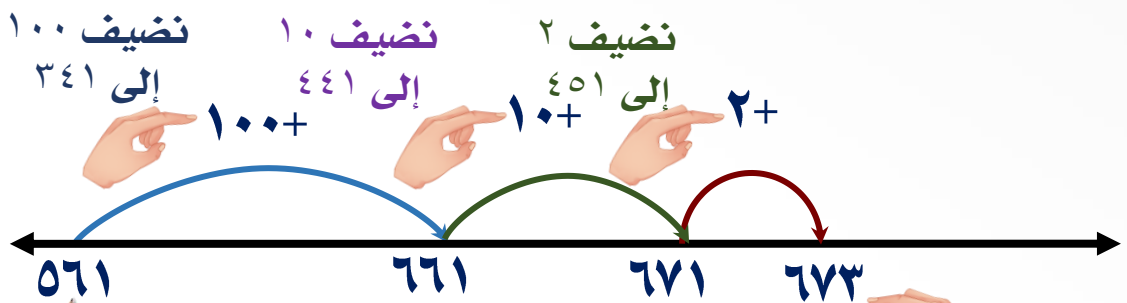


بداية الجمع من اليسار باتجاه اليمين

نتاج الجمع 673

اختصار الجمع

أجمع المئات جميعاً في خطوة واحدة ثم العشرات جميعاً في خطوة واحدة ثم الآحاد جميعاً في خطوة واحدة



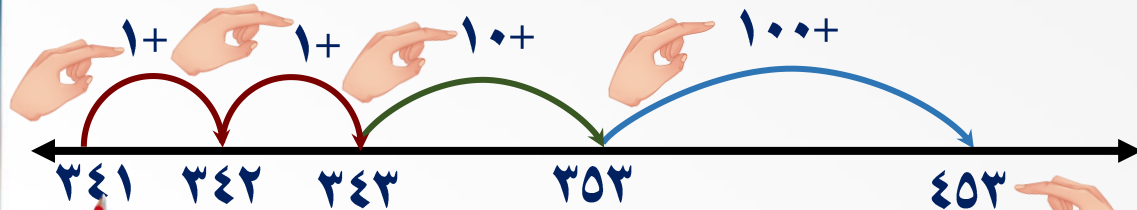
بداية الجمع من اليسار باتجاه اليمين

نتاج الجمع 673

خطوات الجمع بخط الأعداد من [الأحاد والعشرات و المئات]

$$453 = 112 + 341$$

نضيف ١٠٠ إلى ٣٥٣
نضيف ١٠ إلى ٣٤٣
نضيف ١ إلى ٣٤٢
نضيف ١ إلى ٣٤١



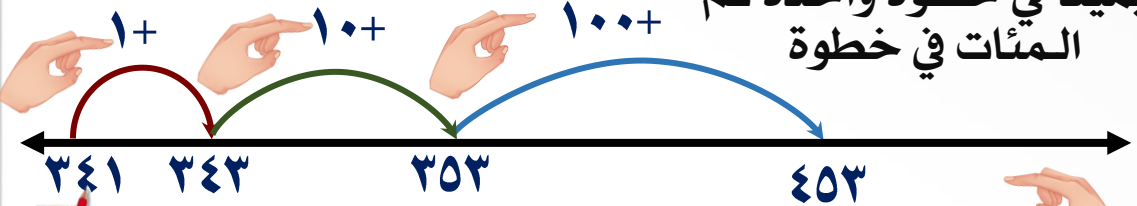
بداية الجمع من اليسار
باتجاه اليمين

نتاج الجمع
٤٥٣

اختصار الجمع

أجمع الأحاد جميعاً في
خطوة واحدة ثم العشرات
جميعاً في خطوة واحدة ثم
المئات في خطوة

نضيف ١٠٠ إلى ٣٥٣
نضيف ١٠ إلى ٣٤٣
نضيف ٢ إلى ٣٤١



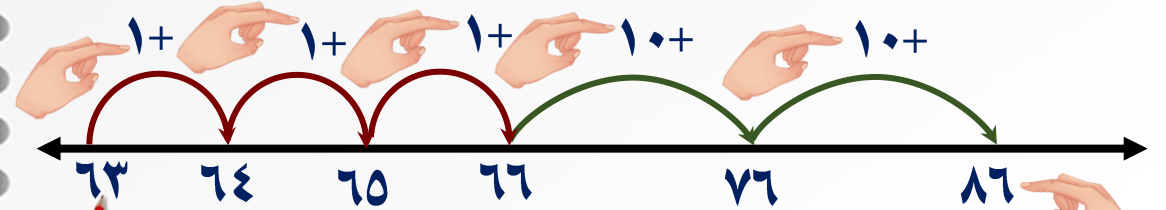
بداية الجمع من
اليسار باتجاه اليمين

نتاج الجمع
٤٥٣

الجمع بخط الأعداد خطوات الجمع بخط الأعداد من [الأحاد والعشرات]

$$86 = 23 + 63$$

نضيف ١٠ إلى ٧٦
نضيف ١٠ إلى ٦٦
نضيف ١ إلى ٦٥
نضيف ١ إلى ٦٤
نضيف ١ إلى ٦٣



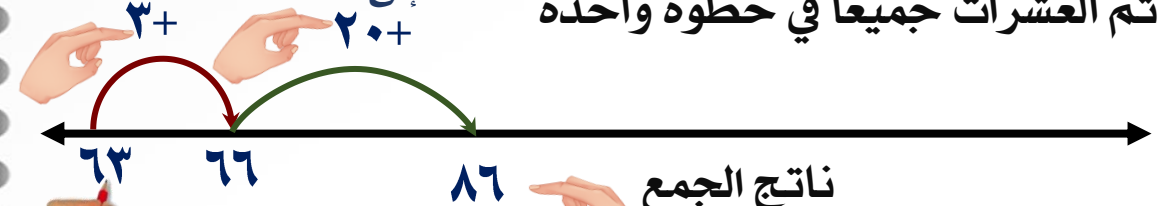
بداية الجمع من
اليسار باتجاه اليمين

نتاج الجمع
٨٦

اختصار الجمع

أجمع الأحاد جميعاً في خطوة واحدة
ثم العشرات جميعاً في خطوة واحدة

نضيف ٢٠ إلى ٦٦
نضيف ٣ إلى ٦٣



بداية الجمع من
اليسار باتجاه اليمين

نتاج الجمع
٨٦

<https://www.liveworksheets.com/oh1478728yd>

<https://www.liveworksheets.com/nd1478786nc>